



Cwestiynau engreiffiol Profion Cenedlaethol

Rhifedd Rhesymu - Blwyddyn 4-6

Enillodd Aled ryw faint o arian.

Rhoddodd **hanner** ei arian i'w chwaer.

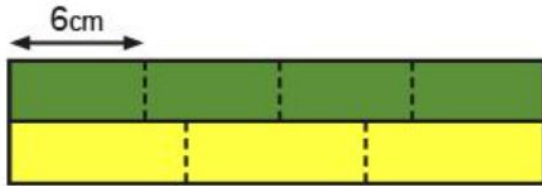
Yna, rhoddodd **hanner** yr arian oedd ar ôl i'w frawd.

Nawr mae gan Aled £2

Faint o arian enillodd Aled?

Cwestiwn: 2

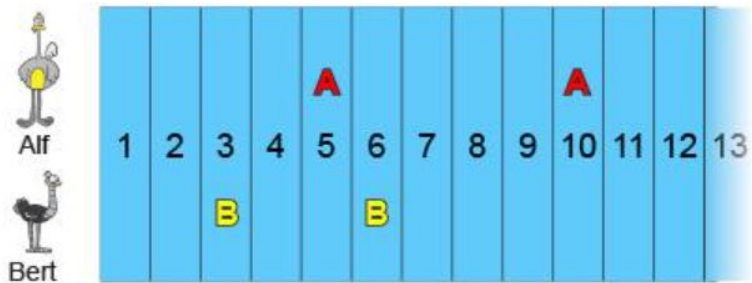
Mae dau betryal o'r un hyd.



Mae un petryal wedi'i rannu yn **bedwar** darn cyfartal, pob un yn **6**cm o hyd.

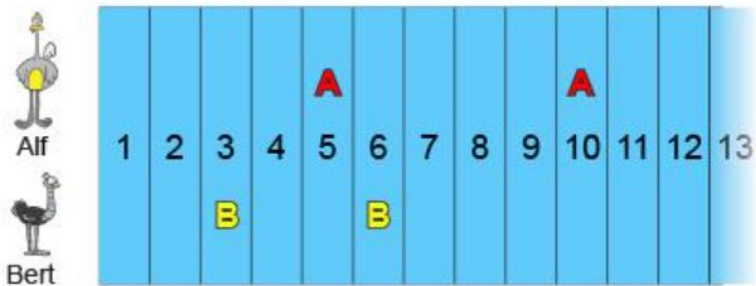
Mae'r petryal arall wedi'i rannu yn **dri** darn cyfartal, pob un yn cm o hyd.

Cwestiwn: 3



Pan fydd Alf ar rif 25, bydd Bert ar rif

Cwestiwn: 4



Ar naid 1, mae Bert 2 y tu ôl i Alf.

Ar naid 10, mae Bert y tu ôl i Alf.



Mae briciau coch, glas a melyn gan Meg.

Mae **chwarter** ei briciau yn felyn.

Mae 1 o'i briciau yn goch, mae 5 yn las, ac mae yn felyn.


Mae Lili yn creu patrymau gyda sgwariau.

Mae'r sgwâr uchaf ar y chwith yn las bob tro.

Mewn patrwm 4 wrth 4

mae 8 sgwâr bach yn las

mae 8 sgwâr bach yn wyn.



Mae Lili yn mynd i wneud yr un patrwm gyda sgwâr sy'n 5 wrth 5

Sawl sgwâr bach fydd yn **las**?

Sawl sgwâr bach fydd yn **wyn**?

sgwâr glas

sgwâr gwyn